




















	Útvonal jel	útvonal leírás / kérdés	ÖSSZ KM	két pont közt megtett út	Válasz / Egyéb feljegyzés
1		jobbra	0,0		
2		Jobbra	0,05	0,05	
3		körforgalomba jobbra	0,7	0,65	
4		jobbra	1,0	0,30	
5		Mi a gumis telefonszáma?	1,6	0,60	
6		főútvonal mentén jobbra	3,8	2,20	
7		főútvonal mentén balra	4,1	0,30	
8		vasúti átjárónál egyenesen És írd fel az időt ha esetleg várakoztál!	4,3	0,20	
9		jobbra	4,4	0,10	
10		főútvonal mentén balra	4,5	0,10	
11		egyenesen	4,7	0,20	
12		lámpánál balra Mi a neve a sarkon lévő pékségnek?	4,9	0,20	
13		belső sávból egyenesen	6,2	6,20	
14		körforgalomból balra	11,8	5,60	
15		Mi a kamion mosó teljes angol neve?	12,2	0,40	
16		körforgalomból egyenesen	14,3	2,10	
17		körforgalomból egyenesen	15,9	1,60	
18		körforgalomból egyenesen	17,9	2,00	
19		Mi a neve a sörözőnek?	19,9	2,00	